

Карточка №1 Фамилия Имя _____

*Заполните цепочки примеров:
Запишите ответы в карточках.*

$$\textcircled{11} \xrightarrow{-3} \bigcirc \xrightarrow{-4} \bigcirc \xrightarrow{+8} \bigcirc \xrightarrow{-5} \bigcirc \xrightarrow{+7} \bigcirc \xrightarrow{+0} \boxed{?}$$

$$\textcircled{15} \xrightarrow{-8} \bigcirc \xrightarrow{+5} \bigcirc \xrightarrow{-6} \bigcirc \xrightarrow{+7} \bigcirc \xrightarrow{-7} \bigcirc \xrightarrow{+0} \boxed{?}$$

$$\textcircled{18} \xrightarrow{-9} \bigcirc \xrightarrow{+4} \bigcirc \xrightarrow{-5} \bigcirc \xrightarrow{+6} \bigcirc \xrightarrow{-7} \bigcirc \xrightarrow{-0} \boxed{?}$$

Карточка №1 Фамилия Имя _____

*Заполните цепочки примеров:
Запишите ответы в карточках.*

$$\textcircled{11} \xrightarrow{-3} \bigcirc \xrightarrow{-4} \bigcirc \xrightarrow{+8} \bigcirc \xrightarrow{-5} \bigcirc \xrightarrow{+7} \bigcirc \xrightarrow{+0} \boxed{?}$$

$$\textcircled{15} \xrightarrow{-8} \bigcirc \xrightarrow{+5} \bigcirc \xrightarrow{-6} \bigcirc \xrightarrow{+7} \bigcirc \xrightarrow{-7} \bigcirc \xrightarrow{+0} \boxed{?}$$

$$\textcircled{18} \xrightarrow{-9} \bigcirc \xrightarrow{+4} \bigcirc \xrightarrow{-5} \bigcirc \xrightarrow{+6} \bigcirc \xrightarrow{-7} \bigcirc \xrightarrow{-0} \boxed{?}$$

Карточка №1 Фамилия Имя _____

*Заполните цепочки примеров:
Запишите ответы в карточках.*

$$\textcircled{11} \xrightarrow{-3} \bigcirc \xrightarrow{-4} \bigcirc \xrightarrow{+8} \bigcirc \xrightarrow{-5} \bigcirc \xrightarrow{+7} \bigcirc \xrightarrow{+0} \boxed{?}$$

$$\textcircled{15} \xrightarrow{-8} \bigcirc \xrightarrow{+5} \bigcirc \xrightarrow{-6} \bigcirc \xrightarrow{+7} \bigcirc \xrightarrow{-7} \bigcirc \xrightarrow{+0} \boxed{?}$$

$$\textcircled{18} \xrightarrow{-9} \bigcirc \xrightarrow{+4} \bigcirc \xrightarrow{-5} \bigcirc \xrightarrow{+6} \bigcirc \xrightarrow{-7} \bigcirc \xrightarrow{-0} \boxed{?}$$

Карточка №1 Фамилия Имя _____

*Заполните цепочки примеров:
Запишите ответы в карточках.*

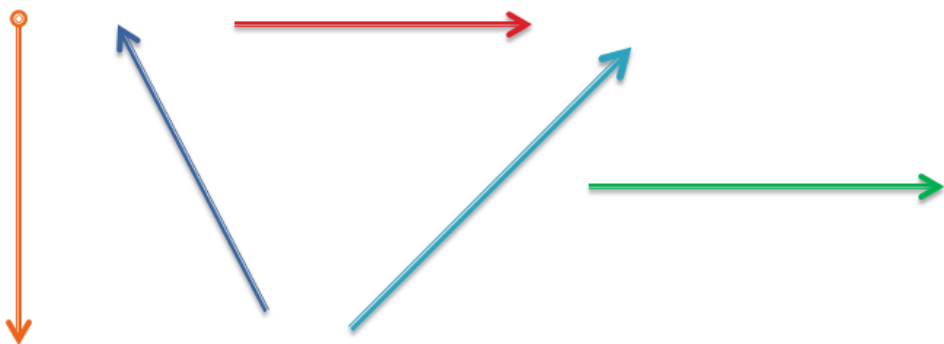
$$\textcircled{11} \xrightarrow{-3} \bigcirc \xrightarrow{-4} \bigcirc \xrightarrow{+8} \bigcirc \xrightarrow{-5} \bigcirc \xrightarrow{+7} \bigcirc \xrightarrow{+0} \boxed{?}$$

$$\textcircled{15} \xrightarrow{-8} \bigcirc \xrightarrow{+5} \bigcirc \xrightarrow{-6} \bigcirc \xrightarrow{+7} \bigcirc \xrightarrow{-7} \bigcirc \xrightarrow{+0} \boxed{?}$$

$$\textcircled{18} \xrightarrow{-9} \bigcirc \xrightarrow{+4} \bigcirc \xrightarrow{-5} \bigcirc \xrightarrow{+6} \bigcirc \xrightarrow{-7} \bigcirc \xrightarrow{-0} \boxed{?}$$

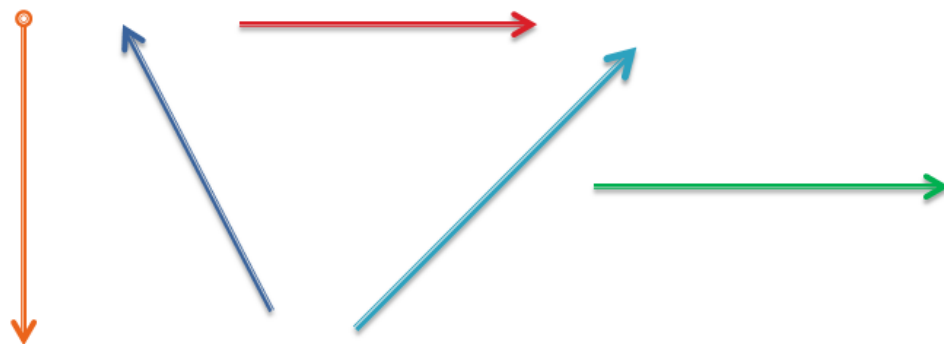
Карточка №2 Фамилия Имя _____

► Обозначить буквами лучи.



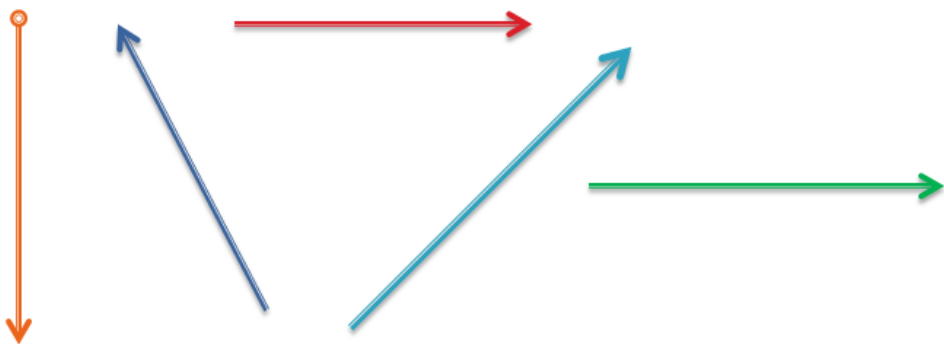
Карточка №2 Фамилия Имя _____

► Обозначить буквами лучи.



Карточка №2 Фамилия Имя _____

► Обозначить буквами лучи.



Карточка №2 Фамилия Имя _____

► Обозначить буквами лучи.

